



SET - (B)

Question Booklet No.

Subject Code : 0125/NH - BN/RCE - E

205551

परीक्षा केन्द्राध्यक्ष की मोहर
Seal of Superintendent of Examination Centre

AMN - 2015

Astt. Manager

परीक्षार्थी द्वारा काले या नीले बॉल प्वाइण्ट पेन से भरा जाए। उत्तर शीट का क्रमांक
To be filled in by Candidate by Black or Blue Ball-Point pen only Sl. No. of Answer-Sheet

अनुक्रमांक

Roll No.

घोषणा : मैं नें नीचे दिये गये निर्देश अच्छी तरह पढ़कर समझ लिए हैं।

Declaration : I have read and understood the instructions given below.

वीक्षक के हस्ताक्षर
(Signature of Invigilator)
वीक्षक के नाम
(Name of Invigilator)

अभ्यर्थी के हस्ताक्षर
(Signature of Candidate)
अभ्यर्थी का नाम
(Name of Candidate)

पूर्णांक - 150

समय - 3 घंटे

प्रश्न पुस्तिका में पृष्ठों की संख्या :

48

Number of Pages in this Question Booklet :

प्रश्न पुस्तिका में प्रश्नों की संख्या :

150

Number of Questions in this Question Booklet :

अभ्यर्थियों के लिए निर्देश

1. प्रश्न-पुस्तिका खिलते ही मुख पृष्ठ एवं अंतिम पृष्ठ में दिए गए निर्देशों को अच्छी तरह पढ़ लें। प्रश्न पुस्तिका में लगी सील को वीक्षक के कहने से पूर्व न खोलें।
2. ऊपर दिए हुए निर्धारित स्थानों में अपना अनुक्रमांक, उत्तर-पुस्तिका का क्रमांक लिखें तथा अपने हस्ताक्षर करें।
3. ओ.एम.आर. उत्तर-शीट में समस्त प्रविष्टियां दिखे गये निर्देशानुसार करें अन्यथा उत्तर-शीट का मूल्यांकन नहीं किया जाएगा।
4. सील खोलने के बाद सुनिश्चित कर लें कि प्रश्न-पुस्तिका में कुल पृष्ठ ऊपर लिखे अनुसार दिए हुए हैं तथा उसमें सभी 150 प्रश्नों का मुद्रण सही है। किसी भी प्रकार की त्रुटि होने पर 15 मिनट के अंदर वीक्षक को सूचित कर सही प्रश्न-पुस्तिका प्राप्त करें।
5. प्रत्येक प्रश्न हेतु प्रश्न-पुस्तिका में प्रश्न के नीचे दिए गए चार विकल्पों में से सही/सबसे उपयुक्त केवल एक ही विकल्प का चयन कर उत्तर शीट में सही विकल्प वाले गोले को जो उस प्रश्न के सरल क्रमांक से सम्बंधित हो काले या नीले बॉल-प्वाइण्ट पेन से भरें।
6. सही उत्तर वाले गोले को अच्छी तरह से भरें, अन्यथा उत्तरों का मूल्यांकन नहीं होगा। इसकी समस्त जिम्मेदारी परीक्षार्थी की होगी।
7. प्रश्न-पुस्तिका में 150 वस्तुनिष्ठ प्रश्न दिए गए हैं। प्रत्येक सही उत्तर हेतु 1 अंक आवंटित किया गया है तथा गलत उत्तर अंकित करने पर 1/4 अंक काटे जायेंगे।
8. प्रश्न-पुस्तिका तथा उत्तर-शीट में निर्दिष्ट स्थानों पर प्रविष्टियां भरने के अतिरिक्त कहीं भी कुछ न लिखें। अन्यथा OMR शीट का मूल्यांकन नहीं किया जायेगा।
9. परीक्षा समाप्ति के उपरान्त केवल ओ.एम.आर. उत्तर-शीट एवं प्रश्न-पुस्तिका की कवर पेज वीक्षक को सौंपनी है। उत्तर-शीट की कार्बन कॉपी तथा प्रश्न-पुस्तिका परीक्षार्थी अपने साथ ले जा सकते हैं।
10. इस प्रश्न-पुस्तिका में विभिन्न भाग होंगे :-

1) सामान्य ज्ञान - I	1-20
2) भारतीय अर्थव्यवस्था	21-40
3) अंकगणित एवं तार्किक योग्यता	41-50
4) कंप्यूटर ज्ञान संबंधी	51-60
5) हिन्दी भाषा	61-100
6) अंग्रेजी भाषा	101-120
7) सामान्य ज्ञान - II	121-150
11. यदि अंग्रेजी भाषा में कोई संदेह है तो हिन्दी भाषा को ही प्रामाणिक माना जायेगा।

INSTRUCTIONS TO CANDIDATES

1. Immediately after getting the booklet read instructions carefully, mentioned on the front and back page of the Question Booklet and do not open the seal given on the Question Booklet, unless asked by the Invigilator.
2. Write your Roll No., Answer-Sheet No., in the specified places given above and put your signature.
3. Make all entries in the OMR Answer-Sheet as per the given instructions otherwise Answer-Sheet will not be evaluated.
4. After Opening the seal, ensure that the Question Booklet contains total no. of pages as mentioned above and printing of all the 150 questions is proper. If any discrepancy is found, inform the invigilator within 15 minutes and get the correct booklet.
5. While answering the question from the Question Booklet, for each question choose the correct/most appropriate option out of four options given, as answer and darken the circle provided against that option in the OMR Answer-Sheet, bearing the same serial number of the question. Darken the circle only with Black or Blue ball point pen.
6. Darken the circle of correct answer properly otherwise answers will not be evaluated. The candidate will be fully responsible for it.
7. There are 150 objective type questions in this Question Booklet. 1 mark is allotted for each correct answer and 1/4 mark will be deducted for each wrong Answer.
8. Do not write anything anywhere in the Question Booklet and the Answer-Sheet except making entries in the specified places otherwise OMR sheet will not be evaluated.
9. After completion of the examination, only OMR Answer-Sheet and cover page of Question Booklet is to be handed over to the Invigilator. Carbon copy of the Answer-Sheet and Question Booklet may be taken away by the examinee.
10. This Question Booklet consists of Parts namely :

1) General Knowledge - I	1-20
2) Indian Economy	21-40
3) Arithmetic and Logical Ability	41-50
4) Computer Related Knowledge	51-60
5) Hindi Language	61-100
6) English Language	101-120
7) General Knowledge - II	121-150
11. In case of any ambiguity in English version the Hindi version shall be considered authentic.



172201

DO NOT WRITE HERE



GENERAL KNOWLEDGE – I

सामान्य ज्ञान – I

1. Who won the Nobel Prize 2014 in literature ?
(A) Herta Muller
(B) Patrick Modiano
(C) Alice Munro
(D) Orhan Pamuk
2. Who won the Abel Prize 2015 ?
(A) Manjul Bhargava
(B) John Milner
(C) Michael Artin
(D) John Nash
3. Upanishads are also known as
(A) Ved
(B) Puran
(C) Vedant
(D) None of the above

1. वर्ष 2014 का साहित्य का नोबल पुरस्कार किसे मिला ?
(A) हर्टा मुलर
(B) पैट्रिक मोडियानो
(C) ऐलिस मुनरो
(D) ओरहान पामक
2. वर्ष 2015 का “एबेल पुरस्कार” किसे प्राप्त हुआ ?
(A) मंजुल भार्गव
(B) जान मिलनर
(C) माइकेल आर्टिन
(D) जान नॅश
3. उपनिषद् निम्न नाम से भी जाना जाता है
(A) वेद
(B) पुरान
(C) वेदान्त
(D) उपरोक्त में कोई नहीं

रफ कार्य के लिए स्थान
Space for Rough Work



4. Mahashweta Devi got which of the following award ?
- (A) Sahitya Academy Award
(B) Jnanpith Award
(C) Padma Vibhushan
(D) All of above
5. WTA ranking is associated with
- (A) Men's Tennis
(B) Women's Tennis
(C) Both Men and Women's Tennis
(D) None of above
6. Subroto Cup is related to which of the following game ?
- (A) Hockey
(B) Chess
(C) Football
(D) Cricket
7. Which of these are certainly a cause water pollution ?
- (A) Coralreefs
(B) Sodium chloride
(C) Arsenic
(D) All of the above

4. महाश्वेता देवी को कौनसा पुरस्कार प्राप्त हुआ ?
- (A) साहित्य एकादमी
(B) ज्ञानपीठ
(C) पद्म विभूषण
(D) उपरोक्त सभी
5. डब्ल्यू.टी.ए. रैंकिंग सम्बन्धित है
- (A) पुरुष टेनिस से
(B) महिला टेनिस से
(C) दोनों महिला तथा पुरुष टेनिस से
(D) उपरोक्त में कोई नहीं
6. सुब्रतो कप किस खेल से सम्बन्धित है ?
- (A) हॉकी से
(B) शतरंज से
(C) फुटबाल से
(D) क्रिकेट से
7. निम्नलिखित में से कौनसा जलप्रदूषण का निश्चित कारण है ?
- (A) कोरलरीफ
(B) सोडियम क्लोराइड
(C) आर्सेनिक
(D) उपरोक्त सभी

रफ कार्य के लिए स्थान
Space for Rough Work



8. Ozone layer is harmful in
- (A) Troposphere
 - (B) Stratosphere
 - (C) Both (A) and (B)
 - (D) Depending on the frequency of radiation

9. Which of the following Statement are true about GSLVD-6 ?

- (i) Is a communication satellite
- (ii) Launched with indigenous cryogenics
- (iii) It is launched from Satishdhavan space centre

- (A) (i) and (ii)
- (B) (ii) and (iii)
- (C) (i) and (iii)
- (D) (i), (ii) and (iii)

10. Which of these are associated with "Minamata Disease" ?

- (A) Arsenic
- (B) Cadmium
- (C) Lead
- (D) Mercury

8. ओजोन परत हानिकारक है

- (A) ट्रोपोस्फीयर में
- (B) स्ट्रेटोस्फीयर में
- (C) (A) तथा (B) दोनों
- (D) यह विकिरण को आकृति पर निर्भर करता है

9. जी.एस.एल.वी.डी.-6 के सम्बन्ध में कौनसे कथन सही है ?

- (i) यह संचार उपग्रह है
- (ii) यह भारतीय (इंडिजिनस) क्रायोजनिक तकनीक से प्रक्षेपित है
- (iii) इसे सतीशधवन स्पेस केन्द्र से प्रक्षेपित किया गया है

- (A) (i) तथा (ii)
- (B) (ii) तथा (iii)
- (C) (i) तथा (iii)
- (D) (i), (ii) तथा (iii)

10. मिनामाता रोग किससे संबंधित है ?

- (A) आर्सेनिक
- (B) कैडमियम
- (C) लेड
- (D) मरक्युरी

रफ कार्य के लिए स्थान
Space for Rough Work



11. Which is the second highest Civilian Award in India ?
- (A) Padma Vibhushan
(B) Padma Bhushan
(C) Padma Shri
(D) Bharat Ratna
12. Who wrote "Silappatikaram" ?
- (A) Ilango Adigal
(B) Tirutalkatebar
(C) Thiruvalluvar
(D) Narsinh Mehta
13. "Hot spot" used in Cricket is
- (A) Ultraviolet Imaging System
(B) Blue Light Imaging System
(C) Red Light Imaging System
(D) Infrared Imaging System
14. Common Wealth Game 2018 is going to be held in
- (A) Canada
(B) Australia
(C) Newzealand
(D) England

11. भारत का दूसरा सबसे बड़ा सिविलियन पुरस्कार क्या है ?
- (A) पद्म विभूषण
(B) पद्म भूषण
(C) पद्म श्री
(D) भारत रत्न
12. "सिल्लापट्टिकरम" किसके द्वारा लिखा गया ?
- (A) इलंगो अडिगल
(B) तिरुतलकातेबर
(C) तिरुवेल्लुवर
(D) नरसिंह मेहता
13. क्रिकेट में उपयोग किया जानेवाले शब्द "हॉट स्पॉट" है
- (A) अल्ट्रावायलेट इमेजिंग सिस्टम
(B) ब्लू लाइट इमेजिंग सिस्टम
(C) रेड लाइट इमेजिंग सिस्टम
(D) इन्फ्रारेड इमेजिंग सिस्टम
14. "कॉमन वेल्थ खेल 2018" कहाँ आयोजित होगी ?
- (A) केनाडा में
(B) आस्ट्रेलिया में
(C) न्यूजीलैंड में
(D) इंग्लैंड में

रफ कार्य के लिए स्थान
Space for Rough Work



15. Vaman Rao Lakhe is popularly known name as
- (A) Lokpriya
(B) Janpriya
(C) Panditji
(D) Loknayak
16. Name the Maratha Commander who invaded on Ratanpur.
- (A) Bhaskar Pant
(B) Raghuji
(C) Mahipat Rao
(D) Bimbaji Bhonsale
17. What is the 'Dhanlaxmi Scheme' in this state ?
- (A) Employment for poor women
(B) Grant for Backward class
(C) To increase the number of female child
(D) Employment grant

15. वामन राव लाखे इस नाम से प्रसिद्ध थे
- (A) लोकप्रिय
(B) जनप्रिय
(C) पंडितजी
(D) लोकनायक
16. रतनपुर पर आक्रमण करने वाले मराठा सेनापति का नाम था
- (A) भास्कर पंत
(B) रघुजी
(C) महीपत राव
(D) बिम्बाजी भोंसले
17. इस राज्य का 'धनलक्ष्मी योजना' क्या है?
- (A) गरीब महिलाओं के रोजगार हेतु
(B) पिछड़े वर्ग के लिये अनुदान
(C) कन्या शिशु जन्म दर में वृद्धि
(D) रोजगार अनुदान

रफ कार्य के लिए स्थान
Space for Rough Work



18. Which of the following country is highest importer of diamond ?

- (A) Belgium
- (B) Canada
- (C) India
- (D) China

19. Which Bastar ruler was defeated by Kaituri ruler Jajiladeo I ?

- (A) Annamdeo
- (B) Vilastung
- (C) Someshwar
- (D) None of these

20. Which of the following is Minimum Support Price for common paddy in this state in 2013-14 ?

- (A) ₹ 1,310
- (B) ₹ 1,345
- (C) ₹ 1,285
- (D) ₹ 1,410

18. निम्नलिखित में से कौनसा देश हीरे का सबसे बड़ा आयातकर्ता है ?

- (A) बेल्जियम
- (B) केनाडा
- (C) भारत
- (D) चीन

19. कल्चुरी शासक जाजल्लदेव प्रथम ने बस्तर के किस शासक को परास्त किया था ?

- (A) अन्नमदेव
- (B) विलासतुंग
- (C) सोमेश्वर
- (D) इनमें से कोई नहीं

20. इस राज्य में सामान्य धान का 'न्यूनतम समर्थन मूल्य' वर्ष 2013-14 में था

- (A) ₹ 1,310
- (B) ₹ 1,345
- (C) ₹ 1,285
- (D) ₹ 1,410

रफ कार्य के लिए स्थान
Space for Rough Work



INDIAN ECONOMY

21. Atal Innovation Mission is setup under
- (A) Finance Ministry
(B) NITI Ayog
(C) Ministry of Skill Development and Entrepreneurship
(D) Prime Minister Office
22. The "AMRUT" Project started by Central Government in 2015 is related to
- (A) Rural Development
(B) Smart City Mission
(C) Financial Inclusion Plan
(D) None of the above
23. Which of these statements are related to Foreign Trade Policy (2015-20) ?
- (I) Increase exports to 900 bn\$ by 2019-20
(II) Raise India's share in World exports from 2% to 3.0 % by 2019-20
(III) Schemes such as Merchandise Exports from India (MEIS) and Service Exports from India (SEIS)
- (A) (I) and (II)
(B) (III) and (II)
(C) (I), (II) and (III)
(D) None of the above

भारतीय अर्थव्यवस्था

21. "अटल इनोवेशन मिशन" किसके अधीन स्थापित किया गया ?
- (A) वित्त मंत्रालय
(B) नीति आयोग
(C) कौशल विकास तथा उद्यम मंत्रालय
(D) प्रधानमंत्री कार्यालय
22. केन्द्र सरकार द्वारा 2015 में शुरू की गई "अमरुत" (AMRUT) परियोजना संबंधित है
- (A) ग्रामीण विकास
(B) स्मार्ट सिटी मिशन
(C) वित्तीय समावेश योजना
(D) उपरोक्त में से कोई नहीं
23. निम्नलिखित में से कौनसे कथन विदेश व्यापार नीति (2015-20) से सम्बन्धित है ?
- (I) 2019-20 तक निर्यात को 900 बिलियन डालर तक बढ़ा
(II) विश्व निर्यात में भारत का हिस्सा, 2019-20 तक, 2% से 3.0% बढ़ाना
(III) "मर्चेन्डाइस एक्सपोर्ट फ्राम इण्डिया" तथा "सर्विस एक्सपोर्ट फ्राम इण्डिया" जैसी योजना है
- (A) (I) तथा (II)
(B) (III) तथा (II)
(C) (I), (II) तथा (III)
(D) उपरोक्त में कोई नहीं

रफ कार्य के लिए स्थान
Space for Rough Work



24. "Per drop, More crop" is related to
- (A) Paramparagut Krishi Vikas Yojana
 - (B) Pradhan Mantri Krishi Sinchai Yojana
 - (C) Pradhan Mantri Adarsh Gram Yojana
 - (D) Pradhan Mantri Gram Sinchai Yojana

25. Which of these can be classified under "natural resources" ?

- (I) Electromagnetic spectrum
 - (II) Transponders
 - (III) Coal, Petroleum, Natural gas
 - (IV) Polymetallic Nodules
- (A) (I) and (III)
 - (B) (I), (III) and (IV)
 - (C) (II), (III) and (IV)
 - (D) None of the above

24. "पर ड्रॉप, मोर क्राप" सम्बन्धित है
- (A) परम्परागत कृषि विकास योजना से
 - (B) प्रधानमंत्री कृषि सिंचाई योजना से
 - (C) प्रधानमंत्री आदर्श ग्राम योजना से
 - (D) प्रधानमंत्री ग्राम सिंचाई योजना से

25. निम्नलिखित में से किसे प्राकृति संसाधन के रूप में वर्गीकृत किया गया है ?

- (I) इलेक्ट्रोमैग्नेटिक स्पेक्ट्रम
 - (II) ट्रांसपान्डर्स
 - (III) कोयला, पेट्रोलियम, प्राकृतिक गैस
 - (IV) पॉलीमेटालिक नुडुल्स
- (A) (I) तथा (III)
 - (B) (I), (III) तथा (IV)
 - (C) (II), (III) तथा (IV)
 - (D) उपरोक्त में कोई नहीं

रफ कार्य के लिए स्थान
Space for Rough Work



26. What part of total land of India is covered with forest ?

- (A) $\frac{1}{5}$ part
- (B) $\frac{1}{3}$ part
- (C) $\frac{1}{8}$ part
- (D) $\frac{2}{5}$ part

27. In "Priority Sector" Lending is given for

- (I) Agriculture Sector
 - (II) Students' Educational Loan
 - (III) Budgetary Subsidies
- (A) (I) and (III)
 - (B) (I) and (II)
 - (C) (II) and (III)
 - (D) None of the above

28. If Repo Rate increases then,

- (A) Money supply decreases
- (B) Money supply increases
- (C) Money supply may increase or decrease
- (D) Money supply shows no effect

26. भारत वर्ष का कितना भाग वनों से आच्छादित है ?

- (A) $\frac{1}{5}$ भाग
- (B) $\frac{1}{3}$ भाग
- (C) $\frac{1}{8}$ भाग
- (D) $\frac{2}{5}$ भाग

27. "प्राथमिकता सेक्टर" में ऋण किसे दिया जाता है ?

- (I) कृषि सेक्टर
 - (II) विद्यार्थी शिक्षा ऋण
 - (III) बजट सबसिडि
- (A) (I) and (III)
 - (B) (I) and (II)
 - (C) (II) and (III)
 - (D) उपरोक्त में से कोई नहीं

28. यदि "रिपो रेट" में वृद्धि होती है, तो

- (A) मुद्रा प्रसार कम होता है
- (B) मुद्रा प्रसार बढ़ता है
- (C) मुद्रा प्रसार कम या अधिक हो सकता है
- (D) मुद्रा प्रसार पर कोई प्रभाव नहीं होता

रफ कार्य के लिए स्थान
Space for Rough Work



29. Which is the most important rate for monetary and credit control in India ?
- (A) Bank Rate
(B) Repo Rate
(C) Cash Reserve Ratio
(D) Statutory Liquidity Ratio
30. Rural Infrastructure Development Fund comes under
- (A) SEBI
(B) RBI
(C) NABARD
(D) SIDBI
31. Pradhan Mantri Kaushal Vikas Yojana includes
- (I) Skill Certification
(II) Monetary Reward
- (A) Only (I)
(B) Only (II)
(C) Both (I) and (II)
(D) None of the above

29. भारत में मौद्रिक व साख नियंत्रण के लिये किस दर को सबसे महत्वपूर्ण माना जाता है ?
- (A) बैंक दर
(B) रेपो दर
(C) नगद आरक्षण अनुपात
(D) सांविधिक तरलता अनुपात
30. ग्रामीण अधोसंरचना विकास निधि किसके अंतर्गत है ?
- (A) सेबी
(B) भारतीय रिजर्व बैंक
(C) नाबार्ड
(D) सिडबी
31. प्रधानमंत्री कौशल विकास योजना में शामिल है
- (I) कौशल प्रमाणीकरण
(II) मुद्रा पुरस्कार
- (A) सिर्फ (I)
(B) सिर्फ (II)
(C) (I) तथा (II) दोनों
(D) उपरोक्त में कोई नहीं

रफ कार्य के लिए स्थान
Space for Rough Work



32. Housing for all by 2022 is aimed for

- (I) Urban Areas
- (II) Rural Areas
- (A) (I) only
- (B) (II) only
- (C) Both (I) and (II)
- (D) None of the above

33. The term “fracking” is used in the context of

- (A) Fertilizers
- (B) Metal-ores
- (C) Shale gas
- (D) Coal

34. Exclusive Economic zone extends upto

- (A) 200 nautical miles from contiguous zone
- (B) 200 nautical miles from territorial waters
- (C) 200 nautical miles from baseline from which breadth of territorial sea is measured
- (D) 250 nautical miles from territorial waters

32. “सभी के लिए आवास 2022” का लक्ष्य है

- (I) शहरी क्षेत्र
- (II) ग्रामीण क्षेत्र
- (A) सिर्फ (I)
- (B) सिर्फ (II)
- (C) (I) तथा (II) दोनों
- (D) उपरोक्त में कोई नहीं

33. “फ्रैकिंग” शब्द का उपयोग किससे सम्बन्धित है ?

- (A) फर्टिलाइसर (उर्वरक)
- (B) मेटल ओर (धातु अयस्क)
- (C) शेल गैस
- (D) कोयला

34. एक्सक्लूसिव इकोनॉमिक जोन विस्तारित है

- (A) कन्टीगुवस जोन से 200 नॉटीकल मील तक
- (B) टेरिटोरियल वाटर से 200 नॉटीकल मील तक
- (C) बेसलाइन से, जिससे टेरिटोरियल वाटर की चौड़ाई मापी जाती है, 200 नॉटीकल मील तक
- (D) टेरिटोरियल वाटर से 250 नॉटीकल मील तक

रफ कार्य के लिए स्थान
Space for Rough Work



35. How many industries are reserved in public sector in New Industrial Policy of India ?

- (A) 3
- (B) 5
- (C) 6
- (D) 9

36. Which of these is related to organic farming ?

- (I) Chemical Fertilizers
 - (II) Green Manure
 - (III) Oil Cakes
 - (IV) Press Mud
- (A) (II), (III) and (IV)
(B) (II) and (III)
(C) (II) and (IV)
(D) (I), (II), (III) and (IV)

37. According to July 2015 World Bank Report, India became how many Trillion Dollar Economy ?

- (A) 2 Trillion Dollar
- (B) 3 Trillion Dollar
- (C) 4 Trillion Dollar
- (D) 5 Trillion Dollar

35. भारत की नवीन औद्योगिक नीति के अंतर्गत सरकारी क्षेत्र के लिये आरक्षित उद्योगों की संख्या कितनी है ?

- (A) 3
- (B) 5
- (C) 6
- (D) 9

36. निम्नलिखित में से कौनसा आर्गनिक खेती से सम्बन्धित है ?

- (I) रसायनिक उर्वरक
 - (II) हरी खाद
 - (III) आयल कैक
 - (IV) प्रेस मड
- (A) (II), (III) तथा (IV)
(B) (II) तथा (III)
(C) (II) तथा (IV)
(D) (I), (II), (III) तथा (IV)

37. जुलाई 2015 में जारी विश्व बैंक की रिपोर्ट के अनुसार भारतीय अर्थव्यवस्था अब कितने ट्रिलियन डॉलर की हो गई है ?

- (A) 2 ट्रिलियन डॉलर
- (B) 3 ट्रिलियन डॉलर
- (C) 4 ट्रिलियन डॉलर
- (D) 5 ट्रिलियन डॉलर

रफ़ कार्य के लिए स्थान
Space for Rough Work



38. New Development Bank is headquartered at

- (A) Beijing, China
- (B) Mumbai, India
- (C) New Delhi, India
- (D) Shanghai, China

39. Who among these is associated with definition of FDI and FII ?

- (A) Jalan Committee
- (B) Urjit Patel Committee
- (C) Mayaram Panel
- (D) Nachiketa Mor Committee

40. What are "Masala bonds" ?

- (A) Rupee denominated bonds issued by International Monetary Fund (IMF)
- (B) Rupee denominated bonds issued by RBI
- (C) Rupee denominated bonds issued by International Finance Corporation (IFC)
- (D) Rupee denominated bonds issued by BRICS bank

38. "न्यू डेवलपमेन्ट बैंक" स्थित है

- (A) बीजिंग (चीन) में
- (B) मुम्बई (भारत) में
- (C) नई दिल्ली (भारत) में
- (D) शंघाई (चीन) में

39. निम्नलिखित में से कौन FDI तथा FII से सम्बन्धित है ?

- (A) जलान समिति
- (B) उरजित पटेल समिति
- (C) मायाराम पेनल
- (D) नचिकेता मोर समिति

40. "मसाला बॉन्ड" क्या है ?

- (A) अंतरराष्ट्रीय मुद्रा कोष द्वारा जारी रुपये डिन्यामिनेटेड बॉन्ड
- (B) भारतीय रिजर्व बैंक द्वारा जारी रुपये डिन्यामिनेटेड बॉन्ड
- (C) अंतरराष्ट्रीय वित्त निगम द्वारा जारी रुपये डिन्यामिनेटेड बॉन्ड
- (D) ब्रिक्स द्वारा जारी रुपये डिन्यामिनेटेड बॉन्ड

रफ कार्य के लिए स्थान
Space for Rough Work



ARITHMETIC AND LOGICAL ABILITY

41. The product of two numbers is 97461 and their greatest common divisor is 21 then their least common multiple is
- (A) 4461
(B) 4641
(C) 4861
(D) None of above
42. A car travels a distance d on a straight road in two hours and then returns to the starting point in next three hours. Its average speed is
- (A) $\frac{d}{5}$
(B) $\frac{d}{6}$
(C) $\frac{2d}{5}$
(D) $\frac{5d}{6}$

अंकगणित एवं तार्किक योग्यता

41. यदि दो अंकों का गुणनफल 97461 हो तथा उनका लघुत्तम समापवर्त्य होगा यदि महत्तम समापवर्तक 21 है, तो
- (A) 4461
(B) 4641
(C) 4861
(D) उपरोक्त में से कोई नहीं
42. एक कार एक सीधी सड़क पर d दूरी 2 घण्टे में तय करती है तथा प्रारम्भिक बिन्दु पर अगले 3 घण्टे में वापस आ जाती है। इसका औसत चाल है
- (A) $\frac{d}{5}$
(B) $\frac{d}{6}$
(C) $\frac{2d}{5}$
(D) $\frac{5d}{6}$

रफ कार्य के लिए स्थान
Space for Rough Work



43. If $d = \gcd(a, b)$, then $\gcd\left(\frac{a}{d}, \frac{b}{d}\right) =$

- (A) 1
- (B) b
- (C) 2
- (D) d

44. A person purchase a scooter at certain cost. After two years he sells it at 20% loss. If he had sold it for ₹ 4,000 more he would have got 20% profit. What was the purchase of scooter ?

- (A) 10,000 ₹
- (B) 20,000 ₹
- (C) 8,000 ₹
- (D) None of above

45. The value of

$$\frac{(1.6)^{1/2} \times (2.7)^{1/3}}{10^{1/6}}$$

- (A) 1.2
- (B) $\frac{12}{\sqrt{10}}$
- (C) $\frac{12}{10^{1/3}}$
- (D) None of above

43. यदि $d = \gcd(a, b)$, तब $\gcd\left(\frac{a}{d}, \frac{b}{d}\right) =$

- (A) 1
- (B) b
- (C) 2
- (D) d

44. एक व्यक्ति एक स्कूटर किसी कीमत पर क्रय करता है। दो वर्ष बाद वह इसे 20% हानि में बेचता है। यदि वह ₹ 4,000 में बेचता तो उसे 20% लाभ होता, स्कूटर का क्रय मूल्य क्या था ?

- (A) 10,000 ₹
- (B) 20,000 ₹
- (C) 8,000 ₹
- (D) उपरोक्त में से कोई नहीं

45. निम्नलिखित का मान ज्ञात करो

$$\frac{(1.6)^{1/2} \times (2.7)^{1/3}}{10^{1/6}}$$

- (A) 1.2
- (B) $\frac{12}{\sqrt{10}}$
- (C) $\frac{12}{10^{1/3}}$
- (D) उपरोक्त में से कोई नहीं

रफ कार्य के लिए स्थान
Space for Rough Work



46. Which of the following is least ratios ?

$$\frac{25}{7}, \frac{37}{3}, \frac{67}{21} \text{ and } \frac{47}{15}$$

(A) $\frac{25}{7}$

(B) $\frac{37}{3}$

(C) $\frac{67}{21}$

(D) $\frac{47}{15}$

47. Complete the following series :

BZ, HT, NN, ?, ZB

(A) LF

(B) SX

(C) TH

(D) TI

48. Choose the correct alternative to complete the following series :

abca _ bcaab _ ca _ bbc _

(A) ccaa

(B) abac

(C) bbaa

(D) abba

46. निम्नलिखित में सबसे छोटा अनुपात कौनसा है ?

$$\frac{25}{7}, \frac{37}{3}, \frac{67}{21} \text{ और } \frac{47}{15}$$

(A) $\frac{25}{7}$

(B) $\frac{37}{3}$

(C) $\frac{67}{21}$

(D) $\frac{47}{15}$

47. निम्नलिखित श्रेणी पूर्ण करो :

BZ, HT, NN, ?, ZB

(A) LF

(B) SX

(C) TH

(D) TI

48. निम्नलिखित श्रेणी को पूर्ण करने हेतु उचित विकल्प ज्ञात करो :

abca _ bcaab _ ca _ bbc _

(A) ccaa

(B) abac

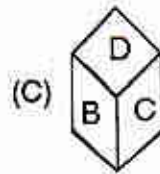
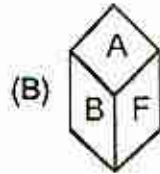
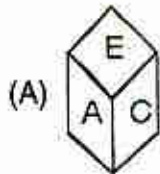
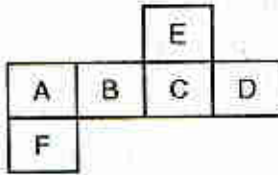
(C) bbaa

(D) abba

रफ कार्य के लिए स्थान
Space for Rough Work



49. Select the alternative box which can be formed by folding the sheet 'A'

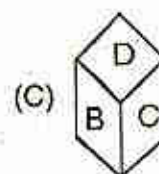
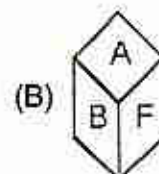
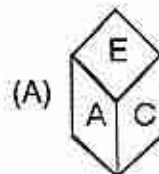
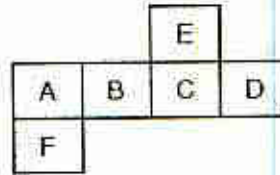


(D) None of above

50. Find out the two signs to be interchanged for making the following equation to be correct :
 $5 + 3 - 5 \times 5 \div 1 = 15$

- (A) \times and $-$
- (B) \times and $+$
- (C) \div and $-$
- (D) $+$ and $-$

49. वह वैकल्पिक बाक्स ज्ञात करो जो शीट 'A' को मोड़कर बनाया जा सकता है



(D) उपरोक्त में से कोई नहीं

50. निम्नलिखित समीकरण में किन दो चिन्हों को बदलने पर समीकरण सही होगा :

$$5 + 3 - 5 \times 5 \div 1 = 15$$

- (A) \times और $-$
- (B) \times और $+$
- (C) \div और $-$
- (D) $+$ और $-$

रफ कार्य के लिए स्थान
Space for Rough Work



51. Ram borrows a certain sum of money from a bank at 10% per annum at compound interest. The entire debt is discharged in full by Ram on payment of two equal amounts of ₹ 1,000 each, one at the end of the first year and the other at the end of the second year. What is the approximate value of the amount borrowed by him ?

- (A) ₹ 1,852
- (B) ₹ 1,736
- (C) ₹ 1,694
- (D) ₹ 1,792

52. In a school there is ratios of 4 : 3 between boys and girls. If the number of girls is in increased by 10% their number is 363. What is the total number students in school now ?

- (A) 753
- (B) 803
- (C) 770
- (D) None of above

51. राम एक बैंक से 10% वार्षिक चक्रवृद्धि ब्याज की दर से कुछ राशि उधार लेता है। राम पूरे उधार को ₹ 1,000 की दो किश्तों में चुकाता है। प्रथम किश्त पहले वर्ष के अंत में तथा दूसरी किश्त दूसरे वर्ष के अंत में। तो उसके द्वारा उधार ली गई राशि का मूल्य लगभग है ?

- (A) ₹ 1,852
- (B) ₹ 1,736
- (C) ₹ 1,694
- (D) ₹ 1,792

52. किसी स्कूल में लड़के तथा लड़कियों का अनुपात 4 : 3 है। यदि लड़कियों की संख्या 10% बढ़ने से उनकी संख्या 363 होता है, तो स्कूल में कुल विद्यार्थियों की संख्या अब कितनी ?

- (A) 753
- (B) 803
- (C) 770
- (D) उपरोक्त में से कोई नहीं

रफ कार्य के लिए स्थान
Space for Rough Work



53. What is the average of first thirty natural numbers ?
- (A) 20.5
(B) 15.5
(C) 7.75
(D) None of above
54. A bottle is full of dettol. One fourth of the dettol is taken out and water is added this process is repeated thrice. What is the ratio of dettol and water after third time ?
- (A) 28 : 36
(B) 25 : 39
(C) 15 : 49
(D) None of above
55. What will be next number in the following sequence ?
2, 10, 30, 68,
- (A) 130
(B) 115
(C) 125
(D) None of above

53. प्रथम तीस प्राकृतिक संख्याओं का औसत क्या होगा ?
- (A) 20.5
(B) 15.5
(C) 7.75
(D) उपरोक्त में से कोई नहीं
54. एक बोतल में डेटाल भरा है। उसमें एक चौथाई निकाल कर पानी भरा जाता है। यदि यह प्रक्रिया तीन बार दोहरायी जाए तो तीसरी बार के पाश्चात में डेटाल तथा पानी का अनुपात होगा
- (A) 28 : 36
(B) 25 : 39
(C) 15 : 49
(D) उपरोक्त में से कोई नहीं
55. निम्नलिखित अनुक्रम में अगला पद क्या होगा ?
2, 10, 30, 68,
- (A) 130
(B) 115
(C) 125
(D) उपरोक्त में कोई नहीं

रफ कार्य के लिए स्थान
Space for Rough Work

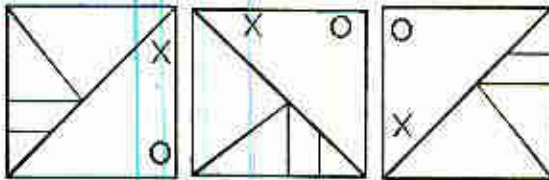


56. Find the next term in the following sequence.

9A, 11B, 15C, 23D, ...

- (A) 35E
- (B) 37E
- (C) 39 E
- (D) None of above

57. What will be the next figure in the following sequence ?



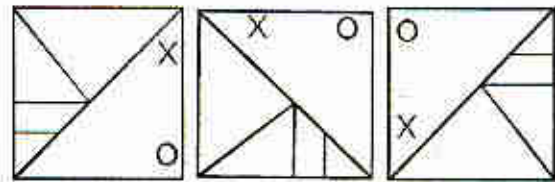
- (A)
- (B)
- (C)
- (D) None of the above

56. निम्नलिखित अनुक्रम में अगला पद ज्ञात करें।

9A, 11B, 15C, 23D, ...

- (A) 35E
- (B) 37E
- (C) 39 E
- (D) उपरोक्त में कोई नहीं

57. निम्नलिखित अनुक्रम में अगला चित्र क्या होगा ?



- (A)
- (B)
- (C)
- (D) उपरोक्त में से कोई नहीं

रफ कार्य के लिए स्थान
Space for Rough Work



58. If 'a' means +, 'b' means –, 'c' means \times and 'd' means \div then the value of $(8 c 7) c (7 a 5) b (6 d 3) d (3 b 2)$
- (A) 650
(B) 375
(C) 670
(D) None of the above

59. What number will come in the blank space in the following diagram ?

3	5	7	34
2	8	9	45
1	2	3	14
5	3	2	?

- (A) 21
(B) 19
(C) 17
(D) None of above
60. What will be next term in the following sequence H, S, F, U, D, ?
- (A) W
(B) Y
(C) O
(D) None of above

58. यदि 'a' का मतलब +, 'b' का मतलब –, 'c' का मतलब \times और 'd' का मतलब \div हो, तो $(8 c 7) c (7 a 5) b (6 d 3) d (3 b 2)$
- (A) 650
(B) 375
(C) 670
(D) उपरोक्त में से कोई नहीं

59. निम्नलिखित चित्र में खाली स्थान में कौनसा अंक हो ?

3	5	7	34
2	8	9	45
1	2	3	14
5	3	2	?

- (A) 21
(B) 19
(C) 17
(D) उपरोक्त में कोई नहीं
60. निम्नलिखित अनुक्रम में अगला पद क्या होगा H, S, F, U, D, ?
- (A) W
(B) Y
(C) O
(D) उपरोक्त में से कोई नहीं

रफ कार्य के लिए स्थान
Space for Rough Work



COMPUTER RELATED KNOWLEDGE

61. A printer cannot be used to print graphics
- (A) Inkjet Printer
 - (B) Thermal Printer
 - (C) Daisywheel Printer
 - (D) Laser Printer
62. Ctrl+V is used to _____ the content of the clipboard at the cursor.
- (A) Cut
 - (B) Copy
 - (C) Paste
 - (D) Undo
63. In MS Excel worksheet "Insert Function" dialogue box can be opened using keys
- (A) F3
 - (B) Alt + F3
 - (C) Shift + F3
 - (D) Ctrl + F3

कम्प्यूटर ज्ञान संबंधी

61. एक प्रिंटर जिसका उपयोग ग्राफिक प्रिंट करने हेतु नहीं किया जा सकता
- (A) इंकजेट प्रिंटर
 - (B) थर्मल प्रिंटर
 - (C) डेजीव्हील प्रिंटर
 - (D) लेज़र प्रिंटर
62. क्लिपबोर्ड के कंटेंट को _____ करने के लिये Ctrl+V का इस्तेमाल होता है।
- (A) कट
 - (B) कॉपी
 - (C) पेस्ट
 - (D) अंडु
63. एमएस एक्सेल वर्कशीट में निम्न keys का उपयोग कर "Insert Function" डायलॉग बॉक्स खोल सकते हैं
- (A) F3
 - (B) Alt + F3
 - (C) Shift + F3
 - (D) Ctrl + F3

रफ कार्य के लिए स्थान
Space for Rough Work



64. To find required text in Powerpoint slides "Find" command is provided in _____ tab.

- (A) Format
- (B) Insert
- (C) Home
- (D) View

65. Which one of the following is not a name of early computer ?

- (A) MARK I
- (B) ENIAC
- (C) UNIVAC I
- (D) ADA I

66. Which of the following a volatile memory ?

- (A) PROM
- (B) ROM
- (C) RAM
- (D) EPROM

64. पावरप्वॉइंट साफ्टवेयर की स्लाइड्स में वांछित टेक्स्ट खोजने हेतु प्रदत्त "Find" कमाण्ड _____ टैब में उपलब्ध है।

- (A) फॉर्मेट (Format)
- (B) इंसर्ट (Insert)
- (C) होम (Home)
- (D) व्यू (View)

65. निम्नलिखित में से कौनसा प्रारंभिक विकसित (पुराने समय का) कम्प्यूटर का नाम नहीं है ?

- (A) MARK I
- (B) ENIAC
- (C) UNIVAC I
- (D) ADA I

66. निम्नलिखित में से कौनसा बोलाटाईल मेमोरी (अस्थिति स्मृति है) ?

- (A) PROM
- (B) ROM
- (C) RAM
- (D) EPROM

रफ कार्य के लिए स्थान
Space for Rough Work



67. What is youtube ?
(A) Video Making Site
(B) Video Chating Site
(C) Video Sharing Site
(D) All of these
68. Linux is a/an _____ operating system.
(A) Windows
(B) Microsoft
(C) Mac
(D) Open source
69. It is a computer animation software
(A) Flash
(B) Maya
(C) 3DS Max
(D) All of these
70. The correct sequence of storage media according to their increasing storage capacity is
(A) HVD-CD-DVD-Bluray
(B) CD-HVD-DVD-Bluray
(C) CD-DVD-Bluray-HVD
(D) CD-DVD-HVD-Bluray

67. यू-ट्यूब क्या है ?
(A) विडियो मेकिंग साइट
(B) विडियो चैटिंग साइट
(C) विडियो शेयरिंग साइट
(D) उपरोक्त सभी
68. लीनॅक्स एक _____ ऑपरेटिंग सिस्टम है।
(A) विंडोज
(B) माइक्रोसाफ्ट
(C) मैक
(D) ओपन सोर्स
69. यह एक कम्प्यूटर एनिमेशन साफ्टवेयर है
(A) फ्लैश
(B) माया
(C) 3-डीएस मैक्स
(D) उपरोक्त सभी
70. बढ़ती भंडारण क्षमता के अनुसार भंडारण माध्यम (storage media) का सही क्रम है
(A) HVD-CD-DVD-Bluray
(B) CD-HVD-DVD-Bluray
(C) CD-DVD-Bluray-HVD
(D) CD-DVD-HVD-Bluray

रफ कार्य के लिए स्थान
Space for Rough Work



71. In a MS Word document "Hyperlink" can be inserted any where using the following keys

- (A) Ctrl + k
- (B) Alt + k
- (C) Shift + k
- (D) Ctrl + Shift + k

72. In a MS Excel worksheet calculating a formula = $15/0$ displays an error

- (A) # NULL
- (B) # DIV/0!
- (C) # NAME ?
- (D) None of these

73. Which of the following device is also used for backup ?

- (A) RAM
- (B) Hard disk
- (C) ROM
- (D) Processor

71. एमएस वर्ड डॉक्यूमेंट में किसी स्थान पर निम्न keys (की-बोर्ड बटन) का उपयोग कर हाइपरलिंक डाला जा सकता है

- (A) Ctrl + k
- (B) Alt + k
- (C) Shift + k
- (D) Ctrl + Shift + k

72. एमएस एक्सेल वर्कशीट में सूत्र (formula) = $15/0$ की गणना करने पर दिखनेवाली त्रुटि है

- (A) # NULL
- (B) # DIV/0!
- (C) # NAME ?
- (D) इनमें से कोई नहीं

73. निम्नलिखित में से कौनसा डिवाइस (साधन) बैकअप के लिये भी प्रयुक्त होता है ?

- (A) RAM
- (B) Hard disk
- (C) ROM
- (D) Processor

रफ कार्य के लिए स्थान
Space for Rough Work



74. A computer peripheral cannot be connected to a computer using the device

- (A) USB
- (B) Parallel Port
- (C) BIOS
- (D) Serial Port

75. When sending an e-mail, the _____ line describes the contents of message.

- (A) To
- (B) CC
- (C) Contents
- (D) Subject

76. What is a cookie ?

- (A) Hardware
- (B) Web Browser
- (C) A file in your computer
- (D) Modem

74. इस डिवाइस के उपयोग से एक कम्प्यूटर पेरिफेरल को कम्प्यूटर से जोड़ा नहीं जा सकता है

- (A) यू. एस. बी.
- (B) पैरेलल पोर्ट
- (C) बायोस
- (D) सिरियल पोर्ट

75. ई-मेल भेजते समय, _____ लाईन संदेश को प्रदर्शित करता है।

- (A) To
- (B) CC
- (C) Contents
- (D) Subject

76. कुकि क्या है ?

- (A) हार्डवेयर
- (B) वेब ब्राउज़र
- (C) आपके कम्प्यूटर में एक फाइल
- (D) मॉडम

रफ कार्य के लिए स्थान
Space for Rough Work



77. A smaller version of an image is called a
- (A) Clipart
 - (B) Portable Network Graphic
 - (C) Thumbnail
 - (D) Bitmap
78. Which one is not a video file extension ?
- (A) .MP4
 - (B) .JPG
 - (C) .AVI
 - (D) .QT
79. What is Firewall ?
- (A) Operating System
 - (B) Network Security System
 - (C) Computer Virus
 - (D) None of above
80. URL means
- (A) Uniform Resource Loader
 - (B) Uniform Resource Locator
 - (C) Universal Resource Loader
 - (D) Universal Resource Locator

77. इमेज का संक्षिप्त रूप कहलाता है
- (A) क्लिपआर्ट
 - (B) पोर्टेबल नेटवर्क ग्राफिक
 - (C) थम्बनेल
 - (D) बिटमैप
78. कौनसा वीडियो फाइल एक्टेन्शन नहीं है ?
- (A) .MP4
 - (B) .JPG
 - (C) .AVI
 - (D) .QT
79. फायरवॉल क्या है ?
- (A) ऑपरेटिंग सिस्टम
 - (B) नेटवर्क सिक्युरिटी सिस्टम
 - (C) कम्प्यूटर वायरस
 - (D) उपरोक्त में कोई नहीं
80. URL का तात्पर्य है
- (A) यूनिफार्म रिसोर्स लोडर
 - (B) यूनिफार्म रिसोर्स लोकेटर
 - (C) यूनिवर्सल रिसोर्स लोडर
 - (D) यूनिवर्सल रिसोर्स लोकेटर

रफ कार्य के लिए स्थान
Space for Rough Work



HINDI LANGUAGE/हिन्दी भाषा

81. मात्रिक सम छंद, जिसके प्रत्येक चरण में 16-16 मात्राएँ होती हैं, कहलाता है

- (A) दोहा
- (B) चौपाई
- (C) सोरठा
- (D) रोला

82. वात्सल्य रस और भक्ति रस को मिला कर काव्य-शास्त्र में रसों की कुल संख्या कितनी है ?

- (A) नौ
- (B) दस
- (C) ग्यारह
- (D) बारह

83. निम्नांकित में से कौनसा शब्द 'जलज' शब्द का समानार्थी नहीं है ?

- (A) कमल
- (B) मछली
- (C) मोती
- (D) बादल

84. 'न उधौ का लेना, न माधौ का देना' का सही अर्थ है

- (A) अनजान रहना
- (B) उधार देना
- (C) ऊपर-नीचे होना
- (D) झमेले में न पड़ना

85. निम्नांकित में से सही कथन को चुनिये

- (A) देवनागरी लिपि में वर्णों की संख्या 54 है।
- (B) व्यंजन का उच्चारण स्वतंत्र रूप से किया जा सकता।
- (C) स्वरों की संख्या व्यंजनों की संख्या से अधिक है।
- (D) स्वर ध्वनियाँ व्यंजनों के उच्चारण में सहायक होती हैं।

86. निम्नांकित में से किस शब्द की वर्तनी सही नहीं है ?

- (A) सन्यासी
- (B) चिन्ह
- (C) वर्तमान
- (D) ब्राह्मण

रफ कार्य के लिए स्थान
Space for Rough Work



87. इनमें से कौन 'कनक' का अनेकार्थक नहीं है ?

- (A) खजूर
- (B) सूर्य
- (C) गेहूँ
- (D) धतूरा

88. 'अरण्य रोदन' का सही अर्थ बताइए

- (A) ऐसा कथन जिस पर सब ध्यान दें
- (B) व्यर्थ में रोना
- (C) ऐसा कथन जिस पर कोई ध्यान न दें
- (D) चोट लगने पर रोना

89. सबसे पहले गिना जानेवाला

- (A) प्रथम
- (B) आरंभ
- (C) अग्रज
- (D) अग्रगण्य

90. लिखित का सही विलोम है

- (A) पठित
- (B) मौखिक
- (C) अपठित
- (D) मुद्रित

91. निम्नांकित में से प्रत्यय-युक्त शब्द का चयन कीजिये।

- (A) इकहरा
- (B) आजन्म
- (C) परामर्श
- (D) खुशबू

92. निम्नांकित में से कौनसा शब्द विदेशज है ?

- (A) औरत
- (B) आग
- (C) खेत
- (D) पगड़ी

93. निम्नांकित में से व्याकरण की दृष्टि से अशुद्ध वाक्य को चुनिये।

- (A) श्रीमद्भागवत की कथा पंद्रह दिनों में समाप्त हुई।
- (B) यूनान गहरे आर्थिक संकट से घिरा हुआ है।
- (C) पृथ्वी का कोई भी देश कम्प्यूटर-क्रांति के प्रभाव से अछूता नहीं रहा।
- (D) अभी देश में सर्वत्र शांति है।

रफ़ कार्य के लिए स्थान
Space for Rough Work



94. निम्नांकित में से अव्ययीभाव समास का उदाहरण चुनिये।
- (A) रक्तपुष्प
(B) गंगाजल
(C) सीताराम
(D) निस्संदेह
95. क्ष, त्र, ज्ञ-इनमें से किस वर्ग में है ?
- (A) संयुक्त व्यंजन
(B) दीर्घ व्यंजन
(C) स्वर
(D) व्यंजन
96. 'इ' और 'ई' किस प्रकार के वर्ण है
- (A) कण्ठ्य
(B) दन्त्य
(C) दन्तोष्ठ्य
(D) तालव्य
97. जहाँ विरोध न होते हुए भी विरोध का आभास किया जाता है वहाँ कौन-सा अलंकार होता है ?
- (A) अतिशयोक्ति
(B) विरोधाभास
(C) श्लेष
(D) यमक
98. छन्दशास्त्र का दूसरा नाम है
- (A) राजनीतिशास्त्र
(B) रसायनशास्त्र
(C) पिंगलशास्त्र
(D) दर्शनशास्त्र
99. पाणिनी ने य् र् ल् व् को संक्षेप में क्या कहा है ?
- (A) यलव
(B) यरलव
(C) गण
(D) यण
100. श्रृंगार रस का स्थायी भाव क्या है ?
- (A) शोक
(B) हास्य
(C) रति
(D) विस्मय

रफ कार्य के लिए स्थान
Space for Rough Work



ENGLISH LANGUAGE/अंग्रेजी भाषा

101. Find out which part of the following sentence has an error. If you feel there is no error, the letter 'IV' will signify a no error response.

I asked him how could he go out

I

II

if it started raining. No error.

III

IV

- (A) I
(B) II
(C) III
(D) IV
102. He urged the Council to reduce the rates.
- Which of the following is/are the correct passive form/forms of the above sentence ?
- (i) The Council was urged to reduce the rates
(ii) The Council were urged to reduce the rates
(iii) He urged that the rates should be reduced
(iv) The rates were urged to reduce
- (A) (i)
(B) (i) and (ii)
(C) (i), (ii) and (iii)
(D) (iv)

103. Choose the correct spelling from the given alternatives to fill in the blank and complete the following sentence.

The _____ to begin the race was the sound of a gun shot.

- (A) que
(B) cue
(C) queue
(D) cueue

104. Select the group of words that is most nearly similar in meaning to the idiom in capital letters.

BRING HOME THE BACON

- (A) To attract clientele
(B) To take up a new job
(C) To achieve something successfully
(D) To purchase a new house

105. The plural of thesis is

- (A) thesies
(B) theses
(C) thieses
(D) thesis

रफ कार्य के लिए स्थान
Space for Rough Work



106. Find out which part of the following sentence has an error ?

The person who talks mostly

I

II

is often the one who does least.

III

IV

- (A) I
- (B) II
- (C) III
- (D) IV

107. In which of the following sentence the use of the idiom 'buckle down' is not appropriate.

- (A) They chatted idly for a few moments; then each buckled down to work.
- (B) Jim was fooling around instead of studying ; so his father told him to buckle down.
- (C) He stood there buckled down when told that he had won the award.
- (D) None of the above

108. The proverb 'Speak fair and think what you will' is related to

- (A) Hypocrisy
- (B) Contempt
- (C) Envy
- (D) Flattery

109. Which word is not an antonym of the word 'OPAQUE' ?

- (A) Transparent
- (B) Clear
- (C) Clever
- (D) Ajar

110. Which word is not a synonym of the word 'even' ?

- (A) Abreast
- (B) Just
- (C) Placid
- (D) Despicable

रफ़ कार्य के लिए स्थान
Space for Rough Work



111. Choose the word nearest in meaning to the underlined part of the following sentence.

Romila is careful that every detail of everything is correct.

- (A) Fastidious
- (B) Thrifty
- (C) Profligate
- (D) Swanky

112. Choose the most appropriate one word substitute for the underlined expression from the given alternatives.

Australian animals that carry their young ones in a pouch.

- (A) Marsupials
- (B) Mammals
- (C) Nocturnals
- (D) Homosapiens

113. Choose the correct sentence.

- (A) Though he is fat but he runs fast
- (B) Though he is fat still he runs fast
- (C) Though he is fat yet he runs fast
- (D) Though he is fat, he runs fast

114. Choose the incorrect expression.

- (A) He pointed the tree
- (B) He pointed to the tree
- (C) He pointed at the tree
- (D) He pointed out the tree

115. (a) a blue long ribbon

(b) a long blue ribbon

Which statement regarding the above sentences is most appropriate ?

- (A) Only 'a' is correct
- (B) Only 'b' is correct
- (C) Both 'a' and 'b' are correct
- (D) Both 'a' and 'b' are wrong

116. Prices have gone down recently.

In the above sentence, the word 'down' is used as

- (A) a preposition
- (B) an adverb
- (C) a verb
- (D) an adjective

रफ कार्य के लिए स्थान
Space for Rough Work



117. a) How are films made ?
b) They _____ with the hard work of hundreds of people.

Choose the most appropriate alternative to fill in the blanks of the above sentence.

- (A) are made
(B) made
(C) were made
(D) are being made
118. "You mustn't cross the road against the red light".
Choose from the alternatives given below the most appropriate sentence which gives the same meaning in Reported Speech for the above sentence and is in correct English.
- (A) He told us we mustn't cross the road against the red light.
(B) He told us we weren't to cross the road against the red light.
(C) He told us we didn't have to cross the road against the red light.
(D) He told us we wouldn't have to cross the road against the red light.

119. Match the following nouns in Section 'A' with the opposite gender in Section 'B'

Section A

Section B

- | | |
|----------|----------|
| 1) Drake | a) Filly |
| 2) Buck | b) Bee |
| 3) Colt | c) Duck |
| 4) Drone | d) Doe |

- (A) 1 – a, 2 – b, 3 – c, 4 – d
(B) 1 – d, 2 – c, 3 – b, 4 – a
(C) 1 – c, 2 – d, 3 – a, 4 – b
(D) 1 – b, 2 – a, 3 – d, 4 – c

120. Pick out the correct preposition that is most appropriate to be attached to the word 'Interfere'.
- (A) against
(B) with
(C) by
(D) on

रफ़ कार्य के लिए स्थान
Space for Rough Work



GENERAL KNOWLEDGE – II

सामान्य ज्ञान – II

121. Which one of the following is a "scalar quantity" ?

- (A) Velocity
- (B) Force
- (C) Energy
- (D) Magnetic field

121. निम्न में से कौन "अदिश राशि" है ?

- (A) वेग
- (B) बल
- (C) ऊर्जा
- (D) चुंबकीय क्षेत्र

122. Fermentation is

- (A) Aerobic respiration
- (B) Anaerobic respiration
- (C) Cellular respiration
- (D) None of the above

122. फिण्वन है

- (A) वायवीय श्वसन
- (B) अवायवीय श्वसन
- (C) कोशिय श्वसन
- (D) उपरोक्त में से कोई नहीं

123. When was the co-operative movement started in India ?

- (A) 1934
- (B) 1904
- (C) 1914
- (D) 1947

123. भारत में सहकारी आंदोलन की शुरुआत कब हुई ?

- (A) 1934
- (B) 1904
- (C) 1914
- (D) 1947

रफ़ कार्य के लिए स्थान
Space for Rough Work



124. Who estimates the data of National Income in India ?

- (A) Planning Commission
- (B) Central Statistical Organisation
- (C) Reserve Bank of India
- (D) Finance Ministry

125. In which latitude temperate zone falls ?

- (A) located between latitude $0^\circ - 23\frac{1}{2}^\circ$ North and South of the equator
- (B) located between latitudes $23\frac{1}{2}^\circ$ to $66\frac{1}{2}^\circ$ North and South of the equator
- (C) located between latitudes $66\frac{1}{2}^\circ - 90^\circ$ North and South of the equator
- (D) None of the above

124. भारत में राष्ट्रीय आय का आकलन किसके द्वारा किया जाता है ?

- (A) योजना आयोग
- (B) केन्द्रीय सांख्यिकीय संगठन
- (C) भारतीय रिज़र्व बैंक
- (D) वित्त मंत्रालय

125. किस अक्षांश में शीतोष्ण कटिबंध पाया जाता है ?

- (A) भूमध्य रेखा से उत्तर एवं दक्षिण में $0^\circ - 23\frac{1}{2}^\circ$ अक्षांश के मध्य
- (B) भूमध्य रेखा से उत्तर एवं दक्षिण में $23\frac{1}{2}^\circ$ से $66\frac{1}{2}^\circ$ अक्षांश के मध्य
- (C) भूमध्य रेखा से उत्तर एवं दक्षिण में $66\frac{1}{2}^\circ$ से 90° अक्षांश के मध्य
- (D) उपरोक्त में से कोई नहीं

रफ कार्य के लिए स्थान
Space for Rough Work



126. When was the nationalisation of Reserve Bank of India done ?

- (A) 1959
- (B) 1947
- (C) 1945
- (D) 1949

127. Which soil is formed by the weathering of crystalline and metamorphic rocks ?

- (A) Red soil
- (B) Black soil
- (C) Desert soil
- (D) Lateritic soil

128. Which among the following is the world's second highest peak ?

- (A) Kanchenjunga
- (B) Dhaulagiri
- (C) Godwin Austen (K2)
- (D) Nanda Devi

126. रिज़र्व बैंक ऑफ़ इंडिया का राष्ट्रीयकरण कब हुआ ?

- (A) 1959
- (B) 1947
- (C) 1945
- (D) 1949

127. क्रिस्टलीय एवं कायान्तरित चट्टानों के अपरदन से कौनसी मिट्टी बनती है

- (A) लाल मिट्टी
- (B) काली मिट्टी
- (C) रेगिस्तानी मिट्टी
- (D) लेटेराइटिक मिट्टी

128. निम्न में से कौनसी चोटी विश्व की दूसरी सर्वाधिक ऊंची चोटी है ?

- (A) कंचनजंघा
- (B) धौलागिरी
- (C) गोडविन आस्टिन (K2)
- (D) नंदा देवी

रफ़ कार्य के लिए स्थान
Space for Rough Work



129. At which of the following place was between Prithviraj Chauhan and Muhammad Ghorī were fought ?

- (A) Panipat
- (B) Talikota
- (C) Tarain
- (D) Kannauj

130. At which of the following place Sher Shah's tomb is situated ?

- (A) Delhi
- (B) Sasaram
- (C) Daulatabad
- (D) Bayana

131. International Nelson Mandela day is celebrated on which date ?

- (A) 18th July
- (B) 21st July
- (C) 31st July
- (D) 3rd June

129. निम्नलिखित में से किस स्थान पर पृथ्वीराज चौहान और मुहम्मद गोरी के बीच युद्ध हुए थे ?

- (A) पानीपत
- (B) तालीकोट
- (C) तराईन
- (D) कन्नौज

130. निम्नलिखित में से किस स्थान पर शेरशाह का मकबरा स्थित है ?

- (A) दिल्ली
- (B) सासाराम
- (C) दौलताबाद
- (D) बयाना

131. अन्तर्राष्ट्रीय नेल्सन मंडेला दिवस किस तिथि को मनाया जाता है ?

- (A) 18 जुलाई
- (B) 21 जुलाई
- (C) 31 जुलाई
- (D) 3 जून

रफ कार्य के लिए स्थान
Space for Rough Work



132. Which of the following is related with "Saraswati Scheme" in this state ?
- (A) Education Expansion
(B) Book Bank
(C) Book Publication
(D) Cycle Distribution
133. Reorganisation Bill for this state was passed in Loka Sabha in
- (A) 20 Dec. 1996
(B) 31 July 2000
(C) 21 July 1998
(D) 1 November 2000
134. Which of the following river or rivers related to Ravishankar Sagar dam ?
- (A) Mahanadi, Jonk, Pairi
(B) Mahanadi, Shivnath, Hasdev
(C) Mahanadi
(D) Hasdev, Shabari

132. इस राज्य का "सरस्वती योजना" किससे संबंधित है ?
- (A) शिक्षा का प्रसार
(B) बुक बैंक
(C) पुस्तक प्रकाशन
(D) साईकल वितरण
133. इस राज्यपुनर्गठन विधेयक लोक सभा में कब पारित हुआ ?
- (A) 20 दिसम्बर 1996
(B) 31 जुलाई 2000
(C) 21 जुलाई 1998
(D) 1 नवम्बर 2000
134. इस राज्य के रविशंकर सागर बांध से कौनसी नदी या नदियाँ संबंधित है ?
- (A) महानदी, जोंक, पैरी
(B) महानदी, शिवनाथ, हसदेव
(C) महानदी
(D) हसदेव, शबरी

रफ कार्य के लिए स्थान
Space for Rough Work



135. Which is declared as World Book Capital for 2017 by UNESCO ?
- (A) Madrid
(B) New Delhi
(C) Conarky
(D) Bangkok
136. In 2015, Bharat Heavy Electricals Limited has started 600 Megawatt thermal unit in which district of this state ?
- (A) Raigarh
(B) Bilaspur
(C) Jahjgir-Champa
(D) Raipur
137. Which of the following is not included in the power of Pardon of President ?
- (A) Reprieve
(B) Remission
(C) Respite
(D) Parole
135. यूनेस्को ने 2017 के लिए किसे वर्ल्ड बुक कैपिटल घोषित किया है ?
- (A) मैड्रिड
(B) नई दिल्ली
(C) कोनार्की
(D) बैंकाक
136. 2015 में भारत हेवी इलेक्ट्रिकल्स लिमिटेड द्वारा इस राज्य के किस जिले में 600 मेगावाट की थर्मल इकाई चालू की गई ?
- (A) रायगढ़
(B) बिलासपुर
(C) जॉजगीर-चाँपा
(D) रायपुर
137. राष्ट्रपति के क्षमा प्रदान करने की शक्ति में निम्न में से कौनसा सम्मिलित नहीं है ?
- (A) प्रविलम्बन
(B) परिहार
(C) विराम
(D) पैरोल

रफ़ कार्य के लिए स्थान
Space for Rough Work



138. At which of the following place Gautama Buddha was born ?

- (A) Lumbini
- (B) Uruvela
- (C) Sarnath
- (D) Gaya

139. Which of the following award is given for music in this state ?

- (A) Raja Chakradhar Award
- (B) Mini Mata Award
- (C) Daw Mandaraji Award
- (D) Bilasabai Award

140. During 5th, 6th century the ruler of this area 'Prasanna Matra' is related to which dynasty ?

- (A) Sharbhpuri Vans
- (B) Kalchuri Vans
- (C) Pandu Vans
- (D) Nal Vans

138. निम्नलिखित में से किस स्थान में गौतम बुद्ध का जन्म हुआ था ?

- (A) लुम्बिनी
- (B) उरुवेला
- (C) सारनाथ
- (D) गया

139. इस राज्य में संगीत विद्या के लिए कौनसा पुरस्कार दिया जाता है ?

- (A) राजा चक्रधर सम्मान
- (B) मीनि माता पुरस्कार
- (C) दाऊ मन्दराजी पुरस्कार
- (D) बिलासा बाई पुरस्कार

140. इस क्षेत्र में 5 वीं, 6 वीं शताब्दी में शासन करनेवाला शासक प्रसन्नमात्र किस वंश से संबंधित थे ?

- (A) शरभपुरी वंश
- (B) कलचुरि वंश
- (C) पाण्डु वंश
- (D) नल वंश

रफ कार्य के लिए स्थान
Space for Rough Work



141. If Speaker of Loka Sabha gives a decision for the conduction of house the concern member is not consent with this, what will happen ?
- (A) The decision of Speaker will be final and binding to the house
(B) The concerned member will appeal to the house
(C) The house will decide by majority
(D) The President will interfere
142. Which is not correct about Finance Bill ?
- (i) It can be introduced in any house of the Parliament .
(ii) It can be introduced in Loka Sabha only
(iii) On deadlock between two houses President will call joint session of Parliament
(iv) President can refuse to sign and return the bill to the Parliament with objections
(v) No need to presigned on the bill by the President
(vi) Rajya Sabha can't amend the bill
- (A) (i) (iii) (v)
(B) (ii) (iv) (vi)
(C) (iii) (iv) (vi)
(D) (i) (v) (vi)

141. यदि लोकसभा का स्पीकर सदन का संचालन करने के संबंध में एक निर्णय देता है, सम्बंधित सदस्य उससे सहमत नहीं है, तो क्या होगा ?
- (A) स्पीकर का निर्णय अन्तिम एवं सदन के लिए बाध्यकारी होगा
(B) सम्बंधित सदस्य, सदन के समक्ष अपील करेगा
(C) सदन बहुमत से निर्णय लेगा
(D) राष्ट्रपति हस्तक्षेप करेगा
142. वित्त विधेयक के विषय में क्या सही नहीं है ?
- (i) यह संसद् के किसी भी सदन में पुरस्थापित किया जा सकता है
(ii) यह केवल लोकसभा में पुरस्थापित किया जा सकता है
(iii) दोनों सदनों में गतिरोध होने पर राष्ट्रपति संसद् का संयुक्त सत्र बुलाएंगे
(iv) राष्ट्रपति हस्ताक्षर करने से इन्कार कर विधेयक को आपत्तियों सहित संसद् को वापस भेज सकते हैं
(v) विधेयक पर राष्ट्रपति के पूर्वहस्ताक्षर की आवश्यकता नहीं है
(vi) राज्यसभा विधेयक में संशोधन नहीं कर सकती
- (A) (i) (iii) (v)
(B) (ii) (iv) (vi)
(C) (iii) (iv) (vi)
(D) (i) (v) (vi)

रफ कार्य के लिए स्थान
Space for Rough Work



143. According to the census of 2011, what was the population of India ?
- (A) 121.06 crore
(B) 100.02 crore
(C) 111.02 crore
(D) 131.02 crore
144. Interest Rate Policy comes under which of the following policy ?
- (A) Monetary Policy
(B) Fiscal Policy
(C) Industrial Policy
(D) Agriculture Policy
145. Who of the following had founded the 'Prarthana Samaj' in Maharashtra ?
- (A) Ramkrishna Gopal Bhandarkar
(B) Vishnushastri Chiplunkar
(C) Jyotiba Phule
(D) Mahadev Govind Ranade
143. 2011 की जनगणना के अनुसार भारत की जनसंख्या कितनी थी ?
- (A) 121.06 करोड़
(B) 100.02 करोड़
(C) 111.02 करोड़
(D) 131.02 करोड़
144. ब्याज दर नीति निम्नलिखित में से किसके अंतर्गत आती है ?
- (A) मौद्रिक नीति
(B) राजकोषीय नीति
(C) औद्योगिक नीति
(D) कृषि नीति
145. निम्नलिखित में से किसने महाराष्ट्र में 'प्रार्थना समाज' की स्थापना की थी ?
- (A) रामकृष्ण गोपाल भंडारकर
(B) विष्णुशास्त्री चिपलुणकर
(C) ज्योतिबा फुले
(D) महादेव गोविंद रानडे

रफ कार्य के लिए स्थान
Space for Rough Work



146. In which of the following region Birsa Munda was the leader of tribal revolt ?
- (A) Santhal Pargana
(B) Chota Nagpur
(C) Telangana
(D) Malabar
147. The atmospheric layer where most of sun's ultraviolet radiation is absorbed
- (A) Troposphere
(B) Stratosphere
(C) Mesosphere
(D) Ionosphere
148. Which planet is known as "Jewel of the solar system" ?
- (A) Earth
(B) Mars
(C) Jupiter
(D) Saturn

146. निम्नलिखित में से किस क्षेत्र में बिरसा मुण्डा आदिवासी विद्रोह के नायक थे ?
- (A) संथाल परगना
(B) छोटा नागपुर
(C) तेलंगाना
(D) मलाबार
147. वह वायुमंडलीय परत जहाँ सूर्य की अधिकांश पराबैंगनी विकिरण शोषित होती है
- (A) ट्रोपोस्फियर
(B) स्ट्रेटोस्फियर
(C) मीसोस्फियर
(D) आइनोस्फियर
148. कौनसा ग्रह "सौर मंडल का गहना" के नाम से जाना जाता है ?
- (A) पृथ्वी
(B) मंगल
(C) बृहस्पति
(D) शनि

रफ़ कार्य के लिए स्थान
Space for Rough Work



149. If a bill passed by the State Legislature, Governor sent it to the President, President returns the bill to the State Legislature with such objections. The State Legislature considers and pass the bill again. Now the President

- (A) is bound to approve the bill
 (B) can refuse to approve the bill
 (C) can use the power of veto on the bill
 (D) central cabinet will interfere

150. Match the following :

- (i) Rule making (a) United States procedure
 (ii) Procedure established by law (b) Ireland
 (iii) Supremacy of the Constitution (c) United Kingdom
 (iv) Nomination of members in Rajya Sabha (d) Japan

- | | (a) | (b) | (c) | (d) |
|-----|-------|-------|------|-------|
| (A) | (i) | (iii) | (iv) | (ii) |
| (B) | (ii) | (iv) | (i) | (iii) |
| (C) | (iii) | (iv) | (i) | (ii) |
| (D) | (iv) | (iii) | (ii) | (i) |

149. यदि एक विधेयक राज्य विधान मण्डल द्वारा पारित हो जाता है, राज्यपाल ने उसे राष्ट्रपति के पास भेज दिया, राष्ट्रपति ने विधेयक को कुछ आपत्तियों सहित राज्य विधानमण्डल के पास वापस भेजा। राज्य विधानमण्डल ने विचार कर उसे दुबारा पारित किया। अब राष्ट्रपति

- (A) विधेयक पर स्वीकृति देने के लिए बाध्य है
 (B) विधेयक पर स्वीकृति देने से इंकार कर सकता है
 (C) विधेयक पर निषेधाधिकार का प्रयोग कर सकता है
 (D) केन्द्रीय मन्त्रिमण्डल हस्तक्षेप करेगा

150. निम्नांकित को सुमेलित कीजिए :

- (i) विधि निर्माण प्रक्रिया (a) संयुक्त राज्य
 (ii) विधि द्वारा स्थापित प्रक्रिया (b) आयरलैण्ड
 (iii) संविधान की सर्वोच्चता (c) यूनाइटेड किंगडम
 (iv) राज्यसभा में सदस्यों का मनोनयन (d) जापान

- | | (a) | (b) | (c) | (d) |
|-----|-------|-------|------|-------|
| (A) | (i) | (iii) | (iv) | (ii) |
| (B) | (ii) | (iv) | (i) | (iii) |
| (C) | (iii) | (iv) | (i) | (ii) |
| (D) | (iv) | (iii) | (ii) | (i) |

रफ़ कार्य के लिए स्थान
 Space for Rough Work

उत्तर अंकित करने का समय : 3 घंटे
Time for marking answers : 3 Hours

अधिकतम अंक : 150
Maximum Marks : 150

नोट :

1. इस प्रश्न-पुस्तिका में निम्न भाग होंगे -
 - 1) सामान्य ज्ञान – I
 - 2) भारतीय अर्थव्यवस्था
 - 3) अंकगणित एवं तार्किक योग्यता
 - 4) कम्प्यूटर ज्ञान संबंधी
 - 5) हिन्दी भाषा
 - 6) अंग्रेजी भाषा
 - 7) सामान्य ज्ञान – II

1-20
21-40
41-60
61-80
81-100
101-120
121-150

प्रत्येक प्रश्न 1 अंक का है। कुल 150 प्रश्न करने अनिवार्य है।

2. प्रश्नों के उत्तर, दी गई OMR उत्तर-शीट (आंसर-शीट) पर अंकित कीजिए।
3. गलत उत्तर अंकित करने पर 1/4 अंक काटे जायेंगे।
4. किसी भी तरह के कैलकुलेटर या लॉग टेबल एवं मोबाइल फोन का प्रयोग वर्जित है।
5. OMR उत्तर-शीट (आंसर-शीट) का प्रयोग करते समय ऐसी कोई असावधानी न करें / बरतें जिससे यह फट जाये या उसमें मोड़ या सिलवट आदि पड़ जाये जिसके फलस्वरूप वह खराब हो जाये।

Note :

1. This Question Booklet contains Parts –
 - 1) General Knowledge – I
 - 2) Indian Economy
 - 3) Arithmetic and Logical Ability
 - 4) Computer Related Knowledge
 - 5) Hindi Language
 - 6) English Language
 - 7) General Knowledge – II

1-20
21-40
41-60
61-80
81-100
101-120
121-150

Each question carries 1 mark. All questions are compulsory.

2. Indicate your answers on the OMR Answer-Sheet provided.
3. 1/4 mark will be deducted for each wrong Answer.
4. Use of any type of calculator or log table and mobile phone is prohibited.
5. While using Answer-Sheet care should be taken so that the Answer-Sheet does not get torn or spoiled due to folds and wrinkles.